













## Fem på rad – divisjon med desimaltall

1) Tenk deg at du tar én av tingene herfra:

					
Flaske m/ saft 2 liter	Mugge m/saft 1,2 liter	Flaske m/brus 1,5 liter	Bøtte m/vann 10 liter	Brusboks 0,33 liter	Melkekartong 1 liter

2) Det du tar skal helles i én av typene beholdere herfra:

					
Karaffel 0,7 liter	Glass 0,5 liter	Målebeger 0,2 liter	Krus 0,3 liter	Kolbe 0,25 liter	Beger 0,22 liter

3) **Hvor mange ganger får du da fylt opp denne beholderen?** Det finner du ut ved å dele det øverste tallet på det nederste.

4) Svaret du får skal du krysse av på/legge en brikke over i tabellen nedenfor. NB! Når du har valgt, delt og fått et svar har du ikke lov til å ombestemme deg!

➔ **FØRSTEMANN TIL FEM PÅ RAD/DEN SOM HAR FÅTT FLEST RADER VINNER** 😊

<b>5</b>	<b>6</b>	<b>4,545</b>	<b>1,65</b>	<b>14,286</b>	<b>4</b>
<b>1,1</b>	<b>2</b>	<b>6,818</b>	<b>4</b>	<b>2,4</b>	<b>10</b>
<b>20</b>	<b>4</b>	<b>3</b>	<b>2,857</b>	<b>1,5</b>	<b>40</b>
<b>3,333</b>	<b>9,091</b>	<b>0,66</b>	<b>5,455</b>	<b>1,429</b>	<b>7,5</b>
<b>8</b>	<b>33,333</b>	<b>2,143</b>	<b>6</b>	<b>6,667</b>	<b>1,32</b>
<b>1,714</b>	<b>45,455</b>	<b>5</b>	<b>4,8</b>	<b>0,471</b>	<b>50</b>

NB! Tallene er rundet av til max tre desimaler